

TEST DE APTITUDES ACADÉMICAS

TEST DE APTITUDES ACADÉMICAS

Éste es un test realizado en el ordenador que evalúa tres áreas: razonamiento numérico, verbal y abstracto.

El tiempo se controla de forma automática por el software.


Antes de cada test hay unos 10 minutos de prácticas. No se requiere preparación específica para este test..

Este test está disponible en inglés, español y francés según la preferencia del candidato.

RAZONAMIENTO VERBAL

Este test evalúa tu capacidad de extraer información cuantitativa de tablas y gráficos para llegar a conclusiones lógicas. No requiere preparación previa pero sí conocimientos en aritmética y álgebra.


tbs Think & Create
Toulouse Business School






Progreso 

Instrucciones

Coste de actividades promocionales del pasado año financiero

Coste total del año: 80.000 £



 Artículos de papelería	 Folletos	 Catálogos
 Publicidad	 Octavillas	

Práctica Test de razonamiento numérico:
Pregunta 2 de 8

Si se imprimieron 50.000 catálogos, ¿cuál fue el coste aproximado por catálogo?

- 26 peniques
- 44 peniques
- 53 peniques
- 62 peniques
- 78 peniques

Siguiente

© 2013 SHL, parte de CEB. Todos los derechos reservados. [Privacidad](#) | [Condiciones de uso](#) EU-SODA-CEW-03:abilityplayer.aspx



Ventas internacionales de productos
(Ingresos por ventas en 1.000 £)

Códigos de almacén de productos	Europa		Norteamérica	
	Año pasado	Año actual	Año pasado	Año actual
A002	17	31	410	354
B008	26	56	18	59
C015	21	69	27	71
D024	37	67	13	50
E001	31	32	19	37
F073	36	16	29	19

Práctica Test de razonamiento numérico:
Pregunta 5 de 8

¿Cuál de los siguientes obtuvo los mayores ingresos por ventas el pasado año?

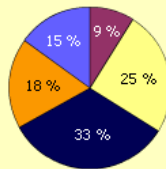
- B008 en Europa
- D024 en Norteamérica
- E001 en Europa
- C015 en Norteamérica
- F073 en Europa

Siguiente



Coste de actividades promocionales del pasado año financiero

Coste total del año: 80.000 £



- Artículos de papelería
- Folletos
- Catálogos
- Publicidad
- Octavillas

Práctica Test de razonamiento numérico:
Pregunta 3 de 8



Si el coste medio de la impresión de una octavilla son 4 peniques, ¿cuántos se imprimieron el pasado año financiero?

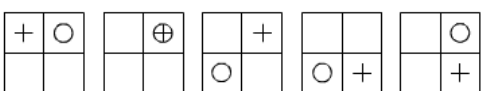
- 200.000
- 300.000
- 400.000
- 600.000
- 900.000

Siguiente

RAZONAMIENTO LÓGICO


Mide tu habilidad para entender y continuar patrones y secuencias basados en estímulos abstractos



Progreso 
Instrucciones





Práctica Test de razonamiento lógico:
Pregunta 3 de 8


Seleccione, entre las opciones disponibles, qué diagrama debería aparecer a continuación en la serie. Luego, haga clic en la selección que aparece abajo.

A 

B 

C 



D 

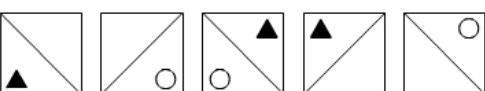
E 

- A
- B
- C
- D
- E

Siguiente


© 2013 SHL, parte de CEB. Todos los derechos reservados. [Privacidad](#) | [Condiciones de uso](#)
EU-SODA-CEW-05:abilityplayer.aspx



Progreso 
Instrucciones





Práctica Test de razonamiento lógico:
Pregunta 6 de 8


Seleccione, entre las opciones disponibles, qué diagrama debería aparecer a continuación en la serie. Luego, haga clic en la selección que aparece abajo.

A 

B 

C 

D 

E 

- A
- B
- C
- D
- E

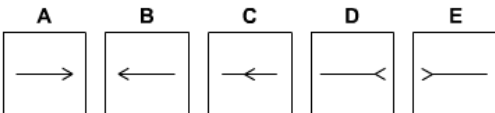
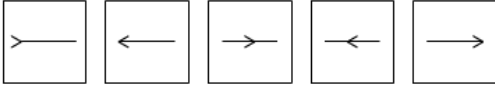
Siguiente

© 2013 SHL, parte de CEB. Todos los derechos reservados. [Privacidad](#) | [Condiciones de uso](#)
EU-SODA-CEW-05:abilityplayer.aspx



Práctica Test de razonamiento lógico:
Pregunta 8 de 8

Seleccione, entre las opciones disponibles, qué diagrama debería aparecer a continuación en la serie. Luego, haga clic en la selección que aparece abajo.



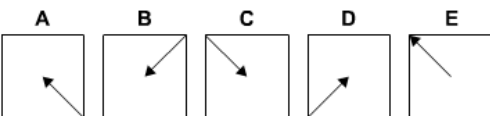
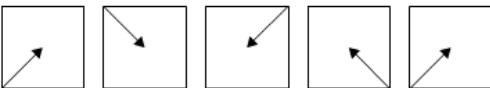
- A
- B
- C
- D
- E

Finalizar



Práctica Test de razonamiento lógico:
Pregunta 1 de 8

Seleccione, entre las opciones disponibles, qué diagrama debería aparecer a continuación en la serie. Luego, haga clic en la selección que aparece abajo.





- A
- B
- C
- D
- E

Siguiente

RAZONAMIENTO VERBAL

Mide tu habilidad para entender y procesar información escrita.



Progreso 

Instrucciones

Práctica Test de razonamiento verbal:
Pregunta 2 de 8


La popularidad continuada de los parques empresariales se verá reforzada por las nuevas tecnologías.


Recuerde basar sus respuestas sólo en la información proporcionada en el pasaje.

Verdadero
 Falso
 No se puede determinar

Siguiente

© 2013 SHL, parte de CEB. Todos los derechos reservados. [Privacidad](#) | [Condiciones de uso](#) EU-SODA-CEW-01:abilityplayer.aspx



Progreso 

Instrucciones

Práctica Test de razonamiento verbal:
Pregunta 6 de 8

Todos los participantes en el curso tienen derecho a una asignación económica.

Recuerde basar sus respuestas sólo en la información proporcionada en el pasaje.

Verdadero
 Falso
 No se puede determinar

Siguiente

© 2013 SHL, parte de CEB. Todos los derechos reservados. [Privacidad](#) | [Condiciones de uso](#) EU-SODA-CEW-01:abilityplayer.aspx



El grupo CPU ha iniciado en el centro de la ciudad un nuevo curso dirigido exclusivamente a la formación de jóvenes en paro para fomentar las aptitudes en ventas y marketing. El respaldo financiero para el curso proviene del gobierno y una fundación privada local. El curso de CPU puede admitir hasta 180 estudiantes a la vez en cursos de seis meses o un año. El grupo CPU ya ejecuta unos 30 programas similares, principalmente en el sur del país. Para su admisión, los estudiantes deben encontrarse en el paro, tener al menos 19 años y no haber recibido educación a tiempo completo los dos años anteriores. Dependiendo de sus circunstancias personales, puede que reciban una asignación económica.

Práctica Test de razonamiento verbal:

Pregunta 8 de 8

Los estudiantes que finalicen cualquiera de los cursos de CPU tienen mayores posibilidades de encontrar un trabajo adecuado que los estudiantes de otros centros de enseñanza equivalentes.

Recuerde basar sus respuestas sólo en la información proporcionada en el pasaje.

- Verdadero
- Falso
- No se puede determinar

Finalizar